


Numerele naturale de la 0 la 31

1. Numără cu ajutorul desenelor:

a) din 2 în 2:




b) din 2 în 2 :




c) din 3 în 3:



b) din 5 în 5 :



2. Află câți copii sunt numărând din 2 în 2 .



3. Completează cu încă 3 numere respectând regula.

6, 7, 8, _____, _____, _____;

1, 3, 5, _____, _____, _____;

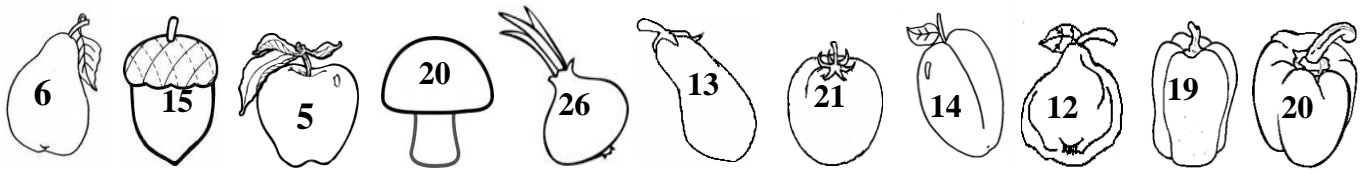
0, 2, 4, _____, _____, _____;

5, 10, _____, _____, _____;

4. Așează în ordine crescătoare numerele : 31, 13 , 3 , 20 , 1, 12 , 7 , 0, 19 , 17, 11 , 25, 30

5. Ce numere din două cifre se pot forma din cifrele : 0 , 1 , 3 ?

6. Colorează fructele și legumele pe care sunt scrise numere pare.



7. Fiecare fluturaș se așează pe floarea cu numărul cu 2 mai mare decât numărul său.



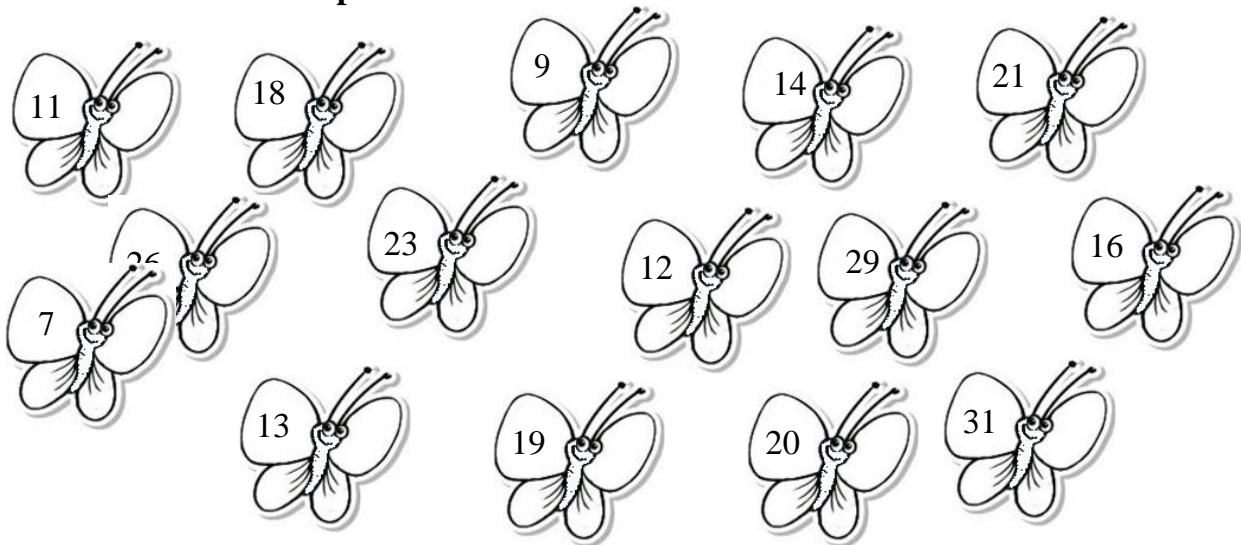
8. Scrie vecinii numerelor:

<input type="text"/> 12 <input type="text"/>	<input type="text"/> 19 <input type="text"/>	<input type="text"/> 28 <input type="text"/>	<input type="text"/> 19 <input type="text"/>
<input type="text"/> 17 <input type="text"/>	<input type="text"/> 22 <input type="text"/>	<input type="text"/> 16 <input type="text"/>	<input type="text"/> 25 <input type="text"/>

9. Compară numerele folosind unul din semnele " < , > sau = " :

20 <input type="text"/> 22	13 <input type="text"/> 30	22 <input type="text"/> 12
29 <input type="text"/> 9	13 <input type="text"/> 13	29 <input type="text"/> 24

10. Colorează cu verde fluturașii pe care sunt scrise numere pare și cu roșu pe cei care sunt scrise numere impare .



11. Scrie cinci numere pare aflate între 16 și 28: